

十几减 9

1. 圈一圈，填一填。

▲▲▲▲▲

▲▲

▲▲▲▲▲

▲

13-9=

○○○○○

○○○

○○○○○

○○○

16-9=

2. 算一算、比一比。

9+=12

9+=15

9+=18

12-9=

15-9=

18-9=

3. 用你喜欢的方法计算。

11-9=

17-9=

14-9=

参考答案

1. 4 7

2. 3 6 9

3 6 9

3. 2 8 5

练习一（1）

1. 算一算、比一比。

9+6=

9+3=

9+4=

15-9=

12-9=

13-9=

2. 你会算吗？

14-9=

17-9=

18-9=

3. 一共买了 11 个 ，吃了 9 个，还剩多少个 ？

○=（个）

参考答案

1. 15 12 13 6 3 4

2. 5 8 9

3. 11-9=2

练习一（2）

1. 算一算、比一比。

6+9=

9+9=


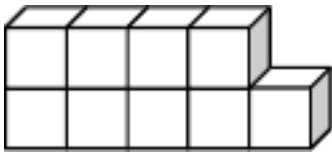


9+4=

15-9=

18-9=

13-9=

2. 你会算吗？



~~○=（个）~~

~~○=（块）~~

3. 小明一共做了 11 朵花，送给小朋友 9 朵后还剩多少朵？

$\square \bigcirc \square = \square$ （朵）

参考答案


1. 15 18 13 6 9 4

2. $9+3=12$ $17-9=8$

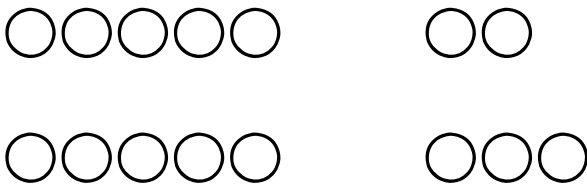
3. $11-9=2$

十几减 8、7

1. 圈一圈，填一填。



$14-8=$



$15-7=$

2. 算一算、比一比。

$7+5=$

$8+5=$

$7+8=$

$12-7=$

$13-8=$

$15-8=$

3. 用你喜欢的方法计算。

$11-8=$

$16-8=$

$17-8=$


$11-7=$

$16-7=$

$17-7=$

参考答案

1.



2. 12 13 15 5 5 7

3. 3 8 9 4 9 10

练习二（1）

1. 算一算。

$$14-7=\square$$

$$17-8=\square$$

$$13-7=\square$$

2. 在○里填上“>”“<”或“=”。

$$15-8 \bigcirc 10$$

$$11-8 \bigcirc 4$$

$$18-8 \bigcirc 12-2$$

$$13-9 \bigcirc 5$$

$$15-10 \bigcirc 14-7$$

$$13-7 \bigcirc 13-8$$

3. $14-9+6=$

$15-7+3=$

$5+7-8=$

$13-8+9=$

参考答案

1. 7 9 6

2. < < = < < >

3. 11 11 4 14

练习二（2）

1. 算一算。

12-7=

12-8=

15-7=

13-8=

11-9=

17-7=

2. 在○里填上“>”“<”或“=”。

11-9 ○ 9

13-8 ○ 5

14-8 ○ 15-9

12-7 ○ 6

18-10 ○ 15-7

11-7 ○ 12-7

3. 小华要做 17 个风筝，已经做了 8 个，还要做多少个？

○=（个）

参考答案

1. 5 4 8 5 2 10

2. < = = < = <

3. 17-8=9

十几减 6、5、4、3、2

1.

▲▲

▲▲▲▲▲

▲▲

▲▲▲▲

13-=

13-=

●●●

●●●

●●●

●●

11-=

11-=

2.

14-4=

11-4=

14-6=

11-3=

13-5=

12-4=

3. 兔妈妈采了 13 个蘑菇，小兔吃了 6 个，还剩多少个？

○

=

（个）

参考答案

1. 9 4 5 6

4 9 6 5

2. 10 7 8 8 8 8

3. 13-6=7

练习三

1. 算一算、比一比。

5+7=

3+8=

资料来源于网络 仅供免费交流使用

$12-5=\square$

$11-3=\square$

$12-7=\square$

$11-8=\square$

2. 填□。

$9+5=\square+6$

$17-7=\square-4$

$\square+5=17-7$

$8+\square=10+6$

3. 小明一共钓（diào）了 15 条鱼，送给爷爷 6 条，还剩多少条？

$\square \bigcirc \square = \square \text{（条）}$

参考答案

1. 12 11 7 8 5 3

2. 8 14 5 8

3. $15-6=9$

复习（1）

1. 算一算、比一比。

$4+7=\square$

$9+8=\square$

$11-4=\square$

$17-9=\square$

$11-7=\square$

$17-8=\square$

2. 算一算，把得数相同的算式连起来。

13-9

17-7

13-8

14-10

12-2

11-6


3. 小军买了 13 支 ，送给小明 6 支，还剩多少支？

○=（支）

参考答案

1. 11 17 7 8 4 9

2.



3. 13-6=7

复习（2）

1. 算一算、比一比。

14-6=

11-3=

13-8=

12-7=

18-9=

14-6=

18-8=

15-7=

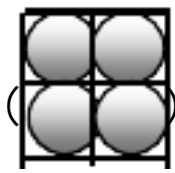
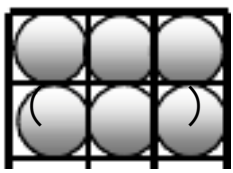
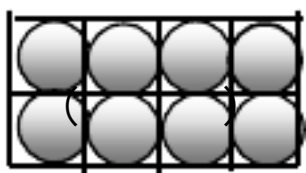
16-8=

2. 填表。

				
--	---	--	---	---

原有	12 枝	18 把	()	15 件
卖出	5 枝	()	9 ^辆 辆	()
还有	() 枝	9 ^把 把	7 辆	7 ^件 件

3. 学校舞蹈队有男生 9 人，女生 5 人，每人发一个球，买下面哪 2 盒比较合适，在下面的 () 里画“√”。



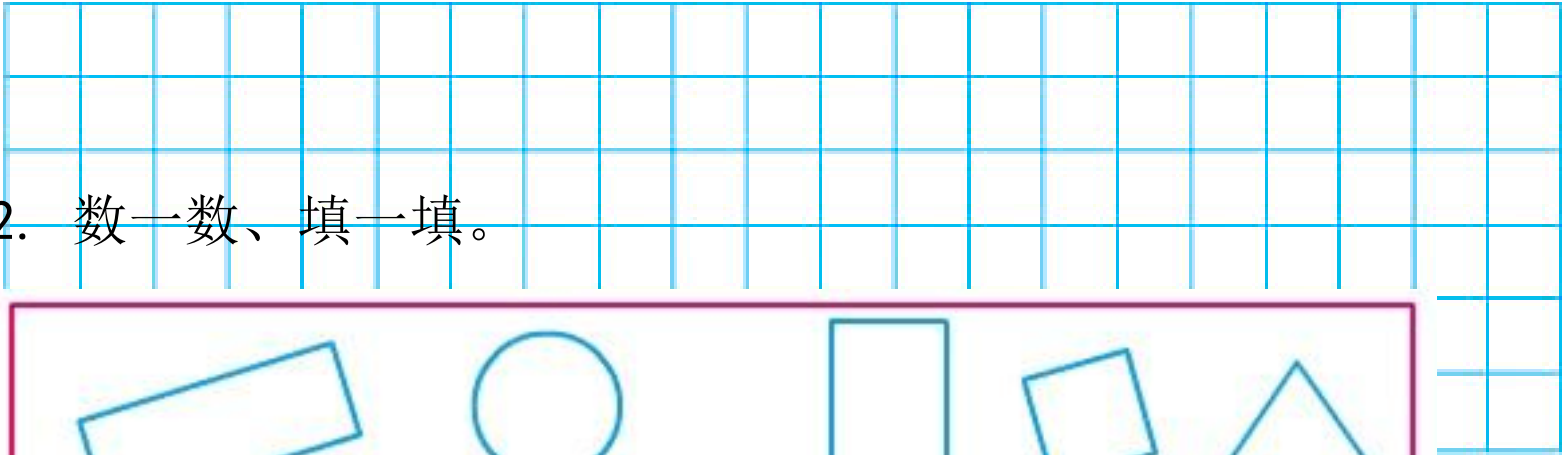
参考答案

1. 8 8 5 5 9 8 10 8 8
2. 7 9 16 8
3. $9+5=14$ $8+6=14$



认识长方形、正方形、三角形和圆

1. 在下面的方格纸上画一个三角形、一个正方形和一个平行四边形。



2. 数一数、填一填。



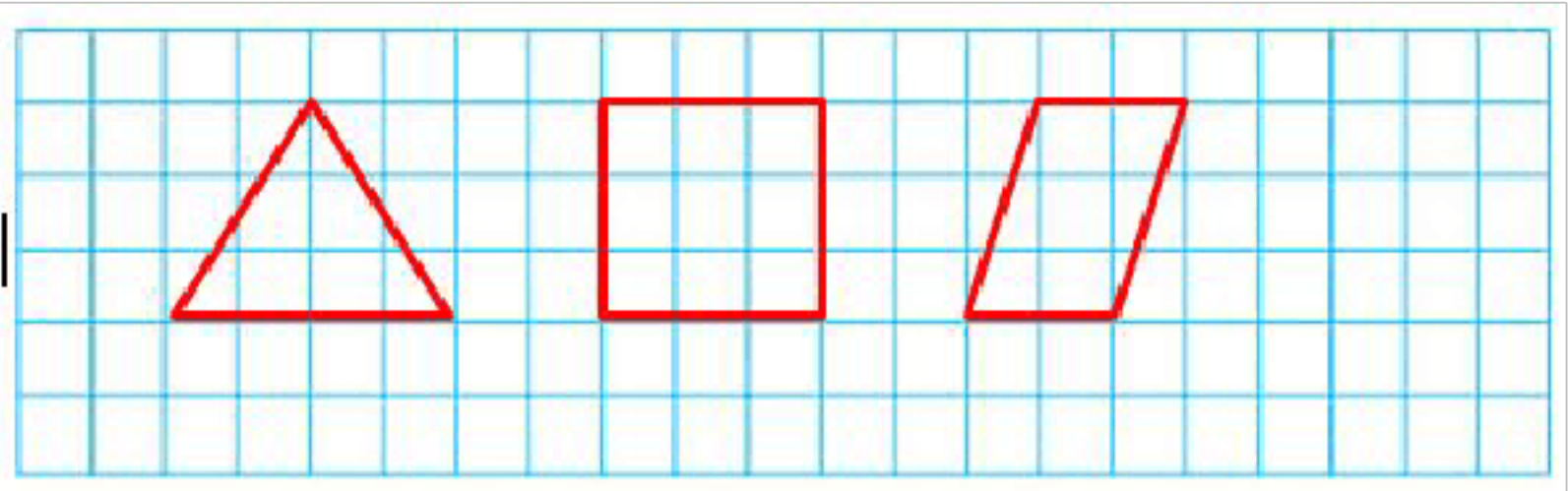
长方形有（ ）个 正方形有（ ）个
三角形有（ ）个 圆有（ ）个

3. 按规律填一填。

□ ○ ○ □ ○ ○ （ ）（ ）（ ）
△ △ □ □ △ △ □ （ ）（ ）（ ）

参考答案

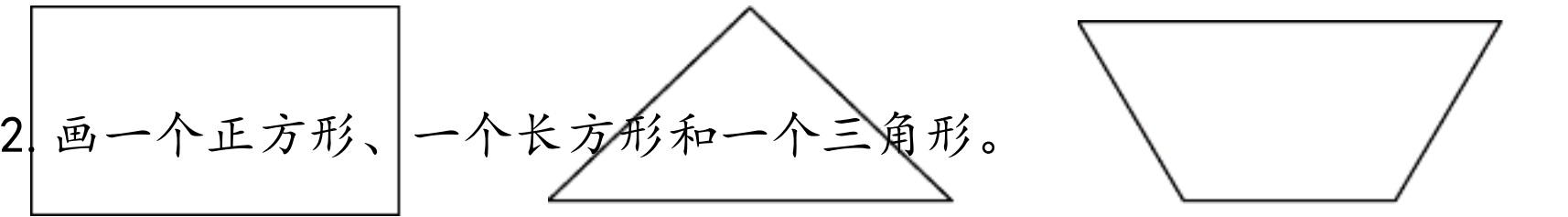
1. （答案不唯一）




2. 5 4 3 2
3. □ ○ ○
 □ △ △

练习四

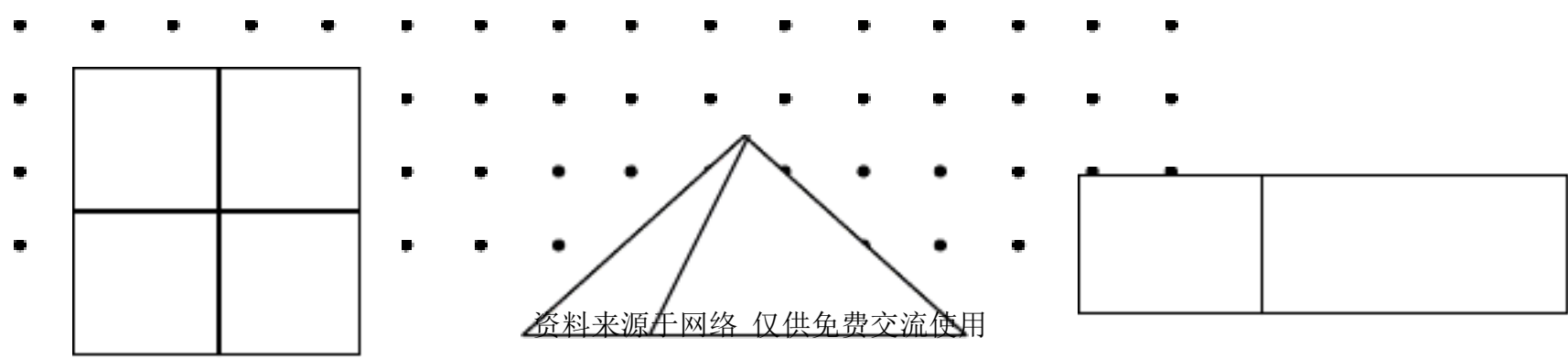
1. 在每个图形里画一条线，把它们分成两个三角形。



2. 画一个正方形、一个长方形和一个三角形。



3. 数一数、填一填。



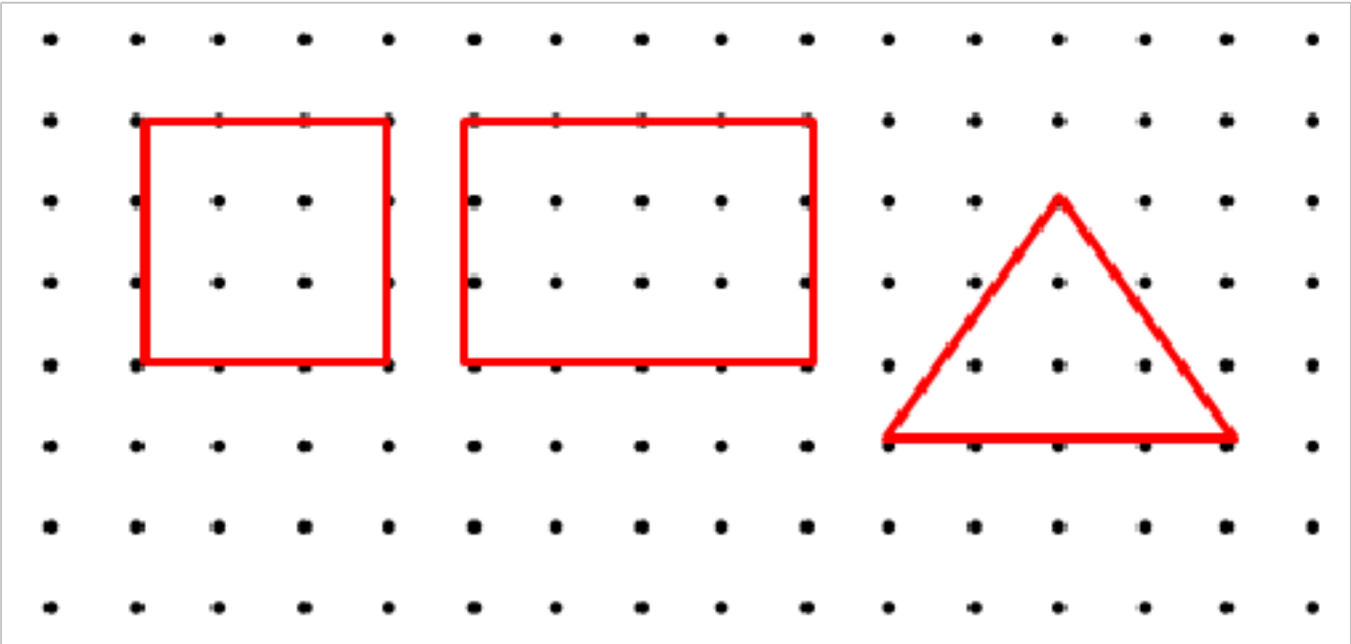
() 个正方形 () 个三角形 () 个长方形

参考答案

1. (答案不唯一)




2. (答案不唯一)



3. 5 3 3

数数、数的含义

1. 每数 10 个圈一圈，再填一填。



有 () 个十和 () 个一。

2. 一个一个数，90 前面是 ()，后面是 ()。

两个两个数，90 前面是 ()，后面是 ()。

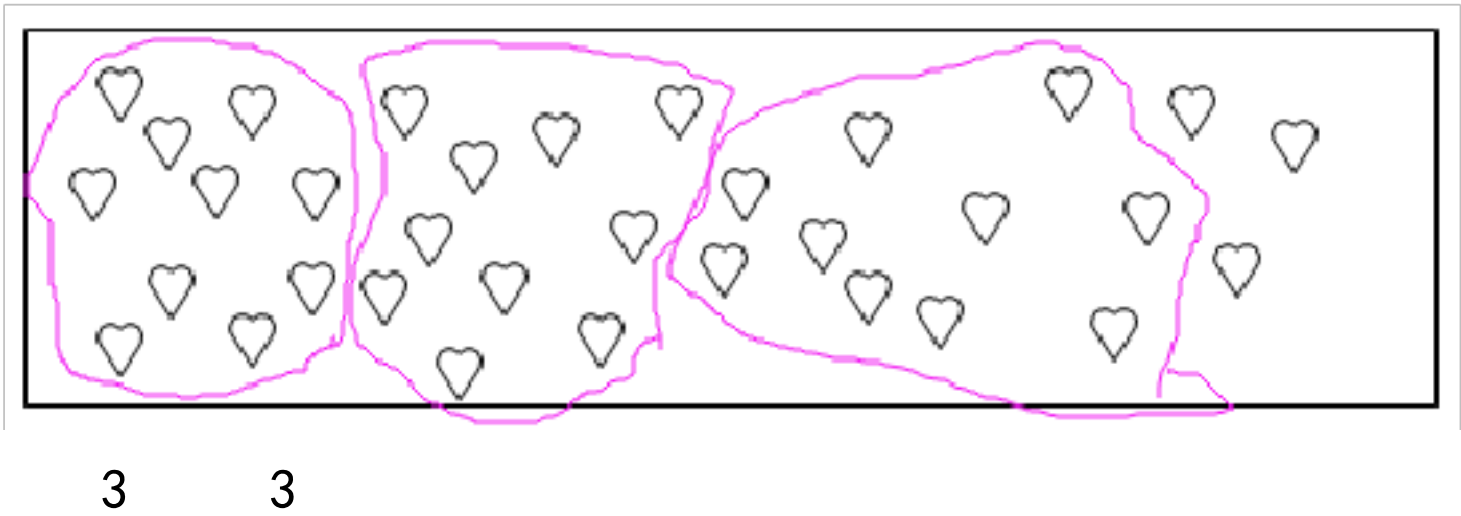
五个五个数，90 前面是 ()，后面是 ()。

十个十个数，90 前面是 ()，后面是 ()。

3.

			8	8			8				
		8	7			4					
					6	6			7		
				4	6			2			
			4	4			4				
		1	3			9					

参
考
答
案



2. 89 91 88 92 85 95 80 100

3.

90	89	88	87	86	85	84	83	82	81	80	79
56	58	60	62	64	66	68	70	72	74	76	78
37	39	41	43	45	47	49	51	53	55	57	59

我们认识的数

1. 找一找你身边还有哪些数？说一说。

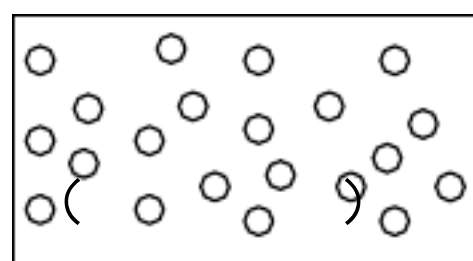
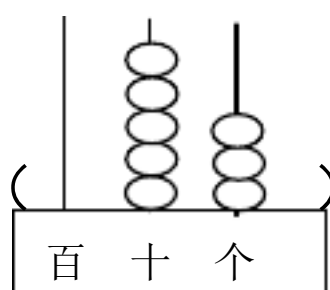
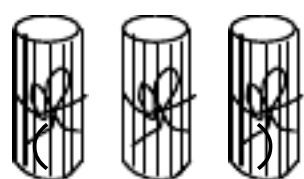
精品文档 用心整理

参考答案

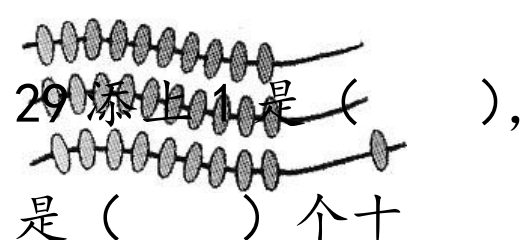
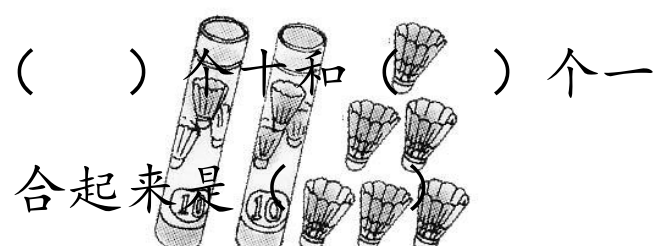
1. 钟面上有 12 个数；班里有 44 名同学；家里养的小狗 8 年了；马路上的限速标志……

数的组成和读写

1. 看图写数。



2. 填空题。



- 3.

(1) () 个十是 50，10 个十是 ()。

(2) 6 个十加 () 个十是 100。

(3) 49 添上 1 是 () 个十，是 ()。

(4) 6 个十和 3 个一合起来是 ()，它的个位上是 ()，十位上是 ()。

(5) 六十几的数有 ()。

参考答案

1. 30 53 21

2. 2 6 26 30 3

3. (1) 5 100

(2) 4

(3) 5 50

(4) 63 3 6

(5) 61、62、63、64、65、66、67、68、69

整十数加一位数及相应的减法

1.

$50+4=$

$5+20=$

$20+7=$

$14-8+7=$

$6+70=$

$54-50=$

$39-30=$

$79-70+3=$

2. 填空题。

两个加数都是 40，和是（ ）；

被减数是 68，减数是 8，差是（ ）。

3. 一本书一共有 89 页，小芳已经看了 50 页，还有多少页没有看？

$$\square \bigcirc \square = \square \text{（页）}$$

参考答案

1. 54 25 27 13 67 4 9 12

2. 80 60

3. $89-50=39$

练习五

1.

$89-9=$

$77-70=$

$60+6=$

$17-9+60=$

$87-7=$

$13-8=$

$2+80=$

$18-9+2=$

2. 填空题。

(1) 和 89 相邻的两个数是 () 和 ()。

(2) 74 里面有 7 个 () 和 () 个一。

(3) 写出三个个位上是 6 的数：()、()、()。

3. 小红要写 54 个大字，已经写了 50 个，还要写多少个？

$$\square \bigcirc \square = \square \text{ (个)}$$

参考答案

1. 80 7 66 68 80 5 82 11

2. (1) 88 90

(2) 十 4

(3) (答案不唯一) 16 26 56

3. $54-50=4$

数的顺序

1. 填空题。

(1) 比 100 小 1 的数是 (), 比 60 大 1 的数是 ()。

(2) 最小的两位数是 (), 最小的三位数是 ();

最大的一位数是 (), 最大的两位数是 ()。

2. 按规律填数。

20				60			90	
----	--	--	--	----	--	--	----	--

57		55				51		
----	--	----	--	--	--	----	--	--

3. 根据 百数表，
在方框里填上合适的数。

	32

	78	

	46	

		80

	16	

参 考 答 案

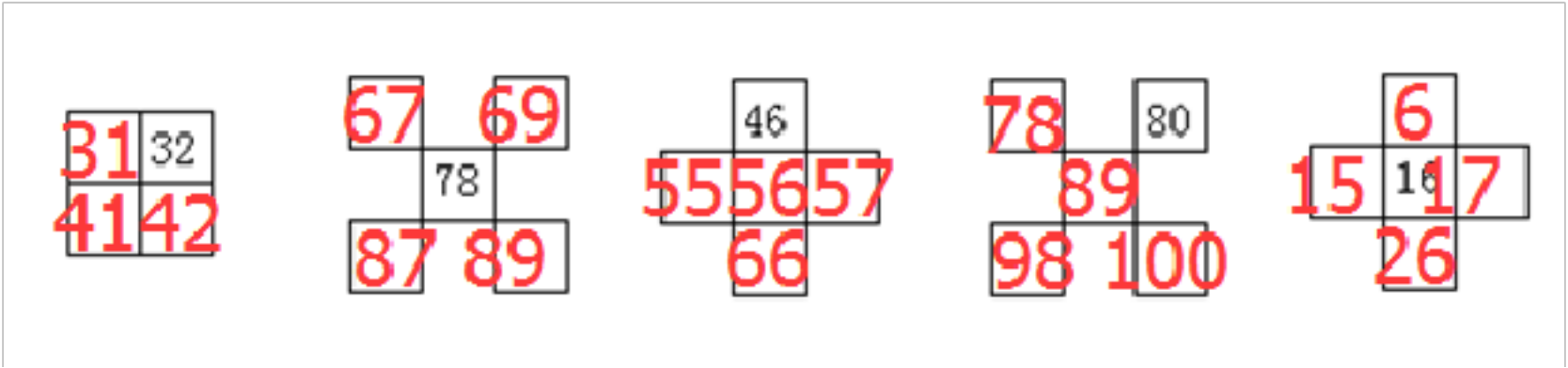
1. (1) 99 61

(2) 10 100 9 99

2.

20	30	40	50	60	70	80	90	100
57	56	55	54	53	52	51	50	49

3.



比较数的大小

1. 在○填上“<”“>”。
- 32 ○ 23

30 ○ 31

80 ○ 79

67 ○ 76

100 ○ 99

80 ○ 90
2. 在 48、76、45、64、49、83、60、59 这八个数中，选择合适的填在圈里。
- 小于 50 的数

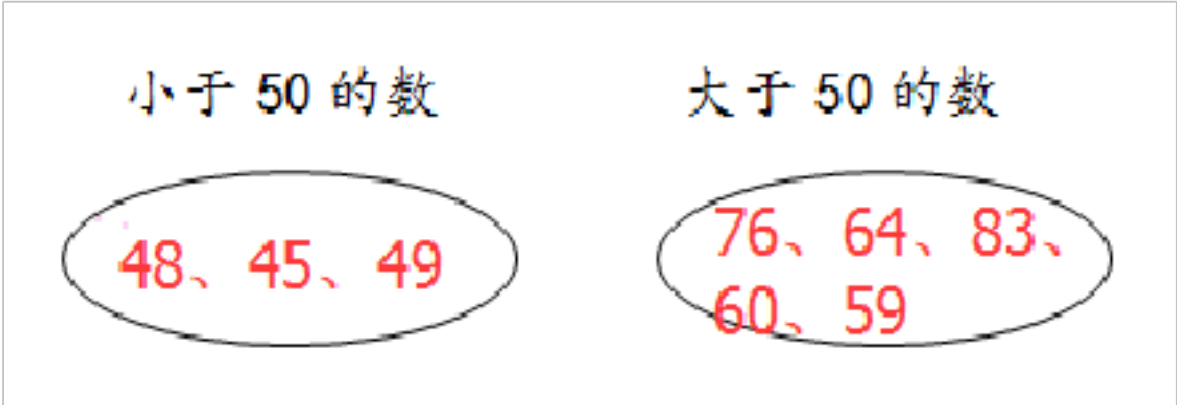
48、45、49

大于 50 的数

76、64、83、60、59
3. 把 52、47、68、90、25、86 这几个数从小到大排列，再填空。
- 47 是第 () 个数，最后一个数是 ()。

参考答案


1. > > > < < <
- 2.



3. 25<47<52<68<86<90 2 90


多些、少些、多得多、少得多

1. 在你认为合适的答案下面画“√”。



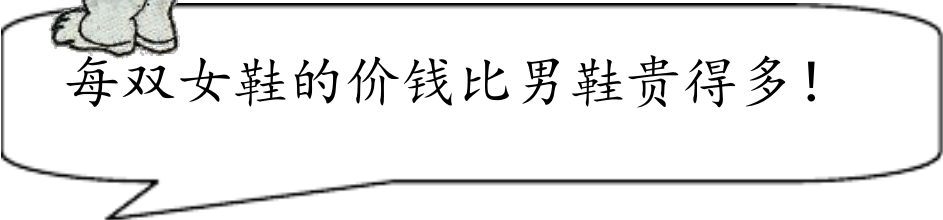
2. 在86认为合适的答案下面画“√”。

50 元




我出的数比你小一些!

30	80	90



每双女鞋的价钱比男鞋贵得多!



3. 一个洋娃娃 37 元，一辆玩具汽车的价钱和洋娃娃差不多。一辆玩具汽车多少元？（在你认为合适的答案下面画“√”。）

20	54	100

参考答

案

1.

30	80	90
	√	

2.

20	54	100
		√

3.

80 元	42 元	20 元
	√	

练习六

1. 在○填上 “=” “<” “>”。

45○54

77○78

10○100

40○50

65○70

80○90

2. （把正确的答案圈出来）

56 接近 60 还是 50？（ 50 ， 60 ）

41 接近 40 还是 50？（ 40 ， 50）

39 接近 30 还是 40？（ 30 ， 40 ）

3. 黄花有 45 朵，红花的朵数比黄花多得多，红花有多少朵？（在你认为合适的答案下面画“√”。）

50 朵	42 朵	95 朵

参考答案

1. < < < < < <
2.

56 接近 60 还是 50？（ 50 ， 60）

41 接近 40 还是 50？（ 40 ， 50）

39 接近 30 还是 40？（ 30 ， 40）

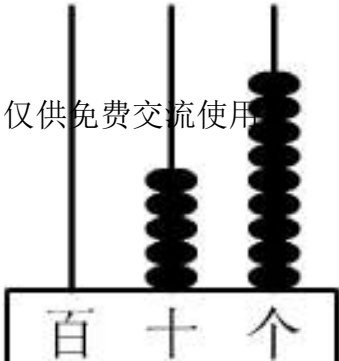
3.

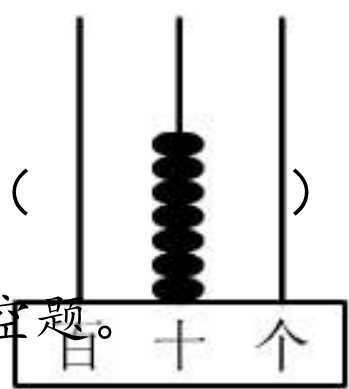
50 朵	42 朵	95 朵
		√

复习

1. 看图写数。

资料来源于网络 仅供免费交流使用





2. 填空题。

(1) 一个数在 70 和 80 之间，个位上是 3，这个数是 ()。

(2) 比 100 小 1 的数是 (), 比 60 大 1 的数是 ()。

(3)在 0 到 50 中,个位和十位上数字相同的数有()。

3. 在你认为合适的答案下面画“√”。

(1) 有 35 张白纸，红纸的张数和白纸差不多，红纸有多少张？

15 張	30 張	75 張

(2) 小明有
小芳一半后

60 张纸, 给了
还剩多少张

纸？

25 張	30 張	40 張

参考答案

1. 70 59

2. (1) 73

(2) 99 61

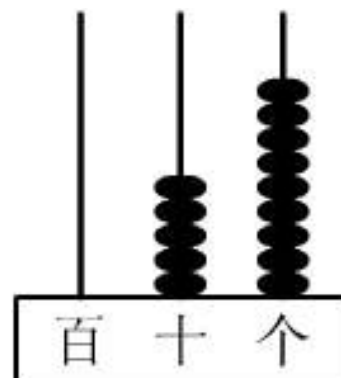
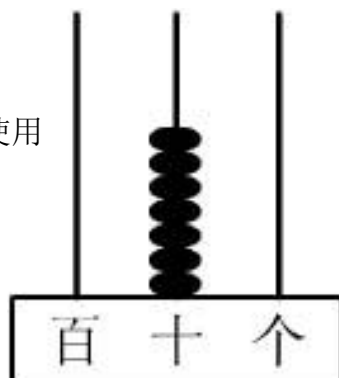
(3) 11 22 33 44

15 张	30 张	75 张
	✓	

3. (1)

25 張	30 張	40 張
	✓	

(2)



整十数加、减整十数

1. 算一算、比一比。

$3+4=$

$9-3=$

$5+3-6=$

$30+40=$

$90-30=$

$50+30-60=$

2. 从下面五个数中选出三个数，组成两道加法算式和两道减法算式。

70

30

90

50

40

$\square \bigcirc \square = \square$

$\square \bigcirc \square = \square$

$\square \bigcirc \square = \square$

$\square \bigcirc \square = \square$

3. 小明今天写了 30 个字，昨天和今天写得同样多，两天一共写了多少个字？

$\square \bigcirc \square = \square \text{ (个)}$

参考答案

1. 7 6 2

70 60 20

2. （答案不唯一）

70、30、40

$30+40=70$

$40+30=70$

$70-30=40$

$70-40=30$

3. $30+30=60$ （个）

两位数加整十数、一位数（不进位）（1）

1. 填空。

$54 = (\quad) + 4$

$76 = (\quad) + 6$

$69 = (\quad) + 9$

$11 = (\quad) + 1$

2.

$23 + 60 =$

$33 + 10 =$

$40 + 13 =$

$23 + 6 =$

$33 + 1 =$

$4 + 13 =$

3. 小林看一本书，第一天看了35页，第二天看了20页，两天一共看了多少页？

$\square \bigcirc \square = \square \text{（页）}$

参考答案

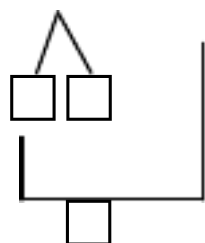
1. 50 70 60 10

2. 83 43 53 29 34 17

3. $35 + 20 = 55$ （页）

两位数加整十数、一位数（不进位）（2）

1. $32 + 50 = \square$



先算（ ）加（ ）得（ ），

再算（ ）加（ ）得（ ）。

2. 填空题。

（1）奶奶的年龄比 62 大，比 70 小，是单数，奶奶可能

()岁。

(2) 在 55、45、50、80、23、28 中，()比 50 多得多，50 比

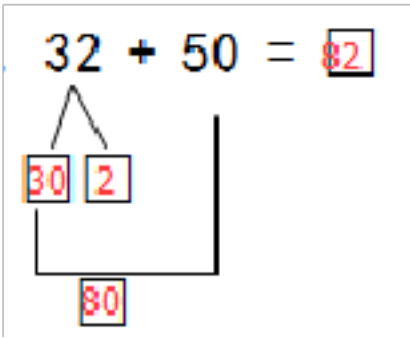
()多一些，()比 28 少一些，55 比 50()。

3. 原来有铅笔 42 枝，又买来了 6 枝，现在一共有多少枝？

$\square \bigcirc \square = \square$ (枝)

参考答案

1.



2. (1) 63、65、67、69

(2) 80 45 23 多一些

3. 42+6=48 (支)

求被减数的实际问题

1. 算一算。

46+3= 38+60= 63+30= 30+5+30=

4+63= 6+71= 63+6= 10+20+9=

2. 小方看一本书，已看了 65 页，还有 20 页没看，这本书原有多少

页？


$\square \bigcirc \square = \square \quad (\quad)$

3.

已经浇了34棵。

花坛里原有多少棵花？

还有30棵没浇。



$\square \bigcirc \square = \square \quad (\quad)$

参考答案

1. 49 98 93 65 67 77 69 39
2. $65+20=85$ （页）
3. $37+30=67$ （棵）

练习七

1. 算一算。

$60+5=$ $13+50=$ $38+20=$ $40+5+3=$

$75+3=$ $68+20=$ $40+60=$ $53+5+20=$

2. 在○里填上“>”、“<”或“=”。

$41+8$ ○ 50

69 ○ $60+9$

$75+10$ ○ $85+2$

$81+9$ ○ $9+81$

$2+67$ ○ 70

$25+5$ ○ $9+20$

3. 树上飞走了 12 只小鸟以后还有 20 只，树上原来有多少只鸟？

$\square \bigcirc \square = \square \quad (\quad)$

参考答案

1. 65 63 58 48 78 88 100 78
2. < = < = < >
3. $12+20=32$ （只）

两位数减整十数、一位数（不退位）（1）

1. $68-5=\square$

先算（ ）减（ ）得（ ），
再算（ ）加（ ）得（ ）。

2. 算一算。

$68-5=$

$93-50=$

$75-3=$

$53+5-20=$

$57-7=$

$78-5=$

$99-90=$

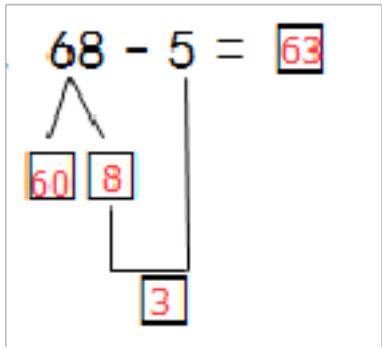
$66-5+20=$

3. 找规律填数。

- 99、89、79、（ ）、（ ）、（ ）、（ ）。
- 91、82、73、（ ）、（ ）、（ ）、（ ）。

参考答案

1.



- 8 5 3 60 3 63
2. 63 43 72 38 50 73 9 81
3. 69 59 49 39
- 64 55 37 28

两位数减整十数、一位数（不退位）（2）

1. 算一算。

$13 - 5 =$ $16 + 6 =$ $17 - 6 =$ $12 - 9 - 2 =$

$93 - 50 =$ $40 + 60 =$ $63 - 30 =$ $100 - 20 + 9 =$

2. 填空题。

(1) $45 - 40 = \square$ ，先算（ ）减（ ）得（ ），
再算（ ）加（ ）得（ ）。

(2) $45 - 4 = \square$ ，先算（ ）减（ ）得（ ），
再算（ ）加（ ）得（ ）。

3. 一（1）班一共有 45 人，女生 20 人，男生有多少人？

$\square \bigcirc \square = \square$ （ ）

参考答案

1. 8 22 11 1 43 100 33 89

2. (1) 5 40 40 0 0 5 5

(2) 41 5 4 1 40 1 41

3. $45-20=25$ (人)

求减数的实际问题

1.

一共要栽 86 棵树
已经栽了多少棵树?



还要栽 30 棵

正好栽完。

2.

车上还有多少个空座位?



3. 小红做了 46 面 旗 , 送给幼儿园小朋友一些后, 还剩 20 面, 送走了多少面?

$$\square \bigcirc \square = \square \quad (\quad)$$

参考答案

1. $86-30=56$ (棵)

2. $45-30=15$ (个)

3. $46-20=26$ (面)

练习八（1）

1. 算一算。

$35-4=$

$78-6=$

$54-2=$

$53-40=$

$87-6=$

$54+2=$

2. 先估一估每题的得数是几十多，再计算。

$65-4=$

$88-5=$

$58-6=$

()

()

()

$48-30=$

$76-20=$

$74-3=$

()

()

()

3. 学校里原有 67 个足球，借走了一些后还剩 20 个，借走了多少个？

$$\square \bigcirc \square = \square \quad (\quad)$$

参考答案

1. 31 72 52 13 81 56

2. 六十多 61 八十多 83 五十多 52

十几 18 五十几 56 七十几 71

3. $67-20=47$ （个）

练习八（2）

1.

57-4=

89-6=

75-4=

98-6=

57-40=

89-60=

75-40=

98-60=

2. 在□里填合适的数。

78-

□

=38

□

-30=64

3. 书架上原来有 78 本书，小红拿走了一些后还剩 8 本，小红拿走了多少本书？

□○□=□（ ）

参考答案

1. 53 83 71 92 17 29 35 38

2. 40 94

3. 78-8=70（本）

两位数加、减两位数（不进位、不退位）

1.

1 6

+ 3 3

4 5

+ 2 0

9 6

- 2 6

2. 用竖式计算。

46+23=

61+27=

87-55=

3. 书架上有 36 本故事书，有 63 本故事书，书架上一共有多少本书？

□○□=□（ ）

参考答案

1.

$\begin{array}{r} 16 \\ + 33 \\ \hline 49 \end{array}$	$\begin{array}{r} 45 \\ + 20 \\ \hline 65 \end{array}$	$\begin{array}{r} 96 \\ - 26 \\ \hline 70 \end{array}$
--	--	--

2. 46+23= 69

61+27= 88

87-55=32

$$\begin{array}{r} 46 \\ + 23 \\ \hline 69 \end{array}$$

$$\begin{array}{r} 61 \\ + 27 \\ \hline 88 \end{array}$$

$$\begin{array}{r} 87 \\ - 55 \\ \hline 32 \end{array}$$

3. 36+63=99（本）

求两数相差多少的实际问题

1.

男孩浇了 23 盆。

女孩浇了 20 盆。

男孩比女孩多浇了多少盆？

□○□=□（ ）



2.

校园里有 73 盆玫瑰花，

有 50 盆郁金香。



郁金香比玫瑰湖少多少盆？

$\square \bigcirc \square = \square \quad (\quad)$

3.



小明	小红	小华
65 下	40 下	30 下

(1) 小华比小红少拍了多少下？

$\square \bigcirc \square = \square \quad (\quad)$

(2) 小华再拍多少下就和小明同样多了？

$\square \bigcirc \square = \square \quad (\quad)$

参考答案

1. $23-20=3$ （盆）
2. $73-50=23$ （盆）
3. (1) $40-30=10$ （下）
- (2) $65-30=35$ （下）

练习九（1）

1.

$$\begin{array}{r} 56 \\ + 11 \\ \hline \end{array}$$

$$\begin{array}{r} 27 \\ + 52 \\ \hline \end{array}$$





$$\begin{array}{r} 72 \\ 42 \\ \hline \end{array}$$

2. 用竖式计算。

$26+53=$

$65-34=$

$99-90=$

3.  有 45 只， 有 30 只，再来多少只  就和  同样多了？
 $\square \bigcirc \square = \square$ ()

参考答案

1. $\begin{array}{r} 56 \\ + 11 \\ \hline 67 \end{array}$

2. $26+53=79$

$$\begin{array}{r} 26 \\ + 53 \\ \hline 79 \end{array}$$

3. $45-30=15$ (只)
- $\begin{array}{r} 27 \\ + 52 \\ \hline 79 \end{array}$

$65-34= 31$

$$\begin{array}{r} 65 \\ - 34 \\ \hline 31 \end{array}$$
- $\begin{array}{r} 72 \\ - 42 \\ \hline 30 \end{array}$

$99-90=9$

$$\begin{array}{r} 99 \\ - 90 \\ \hline 9 \end{array}$$

练习九 (2)

1. 用竖式计算。

$68-51=$

$34+42=$





$51+7=$

2.  47 个  30 个
- (1)  和  一共有多少？

$\square \bigcirc \square = \square \quad (\quad)$

(2)  比  多多少个？

$\square \bigcirc \square = \square \quad (\quad)$

3.  有 56 个， 有 6 支，再买多少支  就和  的个数同样多？

$\square \bigcirc \square = \square \quad (\quad)$

参考答案

1、 $68-51=17$

$34+42=76$

$51+7=58$

$$\begin{array}{r} 68 \\ - 51 \\ \hline 17 \end{array}$$

$$\begin{array}{r} 34 \\ + 42 \\ \hline 76 \end{array}$$

$$\begin{array}{r} 51 \\ + 7 \\ \hline 58 \end{array}$$

2、(1) $47+30=77$ (个)

(2) $47-30=17$ (个)

3、 $56-6=50$ (支)

复习 (1)

1. 算一算。

$46+3=$

$93-50=$

$40+60=$

$97-7=$

$66-53=$

$78-60=$

2. 用竖式计算。

58+20=

78-5=

78-50=

3. 估一估，在得数是六十多的算式后面的□内画“√”。

35+3 ☐

35+30 ☐

78-5 ☐

98-50 ☐

68-8 ☐

55-5 ☐

参考答案

1. 49 43 100 90 13 18

2. 58+20=78

78-5=73

78-50=28

5 8
+ 2 0

7 8

7 8
- 5

7 3

7 8
- 5 0

2 8

3.

35+3☐

35+30☒

78-5☐

98-50☐

68-8☐

55-5☐

复习（2）

1. 填表题。

	3	4	7	6	2	5	9
	6		0	6		7	
	20	54	10	20	17	40	7

和						
差						

2. 学校有 56 本故事书,借给小朋友一些后还剩 40 本,借走了多少本?

$\square \bigcirc \square = \square \quad (\quad)$

3.



28 个

10 个

(1)  和  一共有多少个?

$\square \bigcirc \square = \square \quad (\quad)$

(2)  比  少多少个?

$\square \bigcirc \square = \square \quad (\quad)$

参考答案

1.

	3	4	7	6	2	5	9
	6		0	6		7	
	20	54	10	20	17	40	7
和	56	58	80	86	19	97	16

	差 16	50	60	46	15	17	2
--	------	----	----	----	----	----	---

2. $56-40=16$ （本）
3. （1） $28+10=38$ （个）
- （2） $28-10=18$ （个）

认识 1 元及 1 元以下的人民币

1. 连一连。



5 角



1 角



1 元




2. 填一填。

$1\text{ 元} = (\quad)\text{ 角}$ $(\quad)\text{ 角} = 2\text{ 元}$

$1\text{ 角} = (\quad)\text{ 分}$ $(\quad)\text{ 分} = 5\text{ 角}$

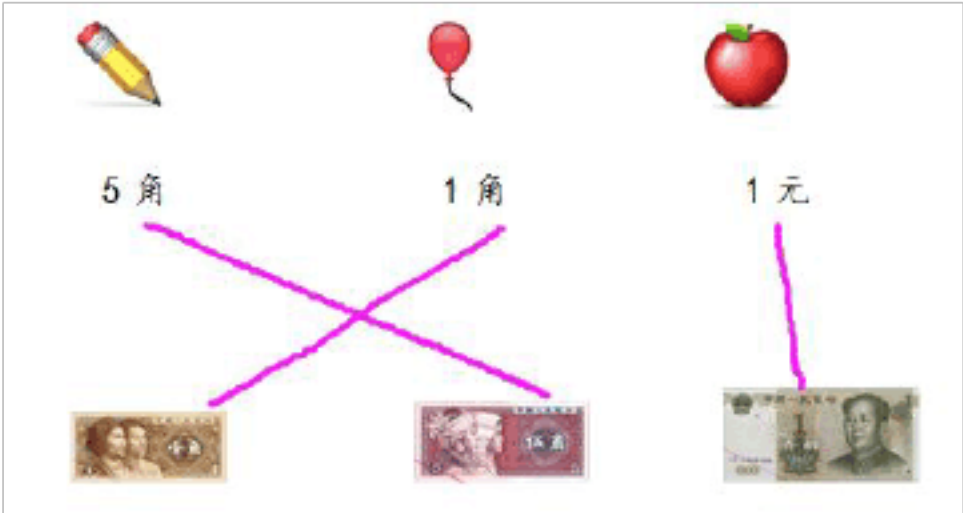


3. 小明用  买了一本 8 角的本子，营业员阿姨应该找回他多少角？

$\square \bigcirc \square = \square (\quad)$

参考答案

1.



2. 10 20 10 50

3. $10-9=2$ (角)

认识大于 1 元的人民币

1. 连一连。



100 元



50 元





10 元



2. 填一填。

(1) 1 张  可以换()张  和()张 .

(2) 1 张  可以换 () 张 .

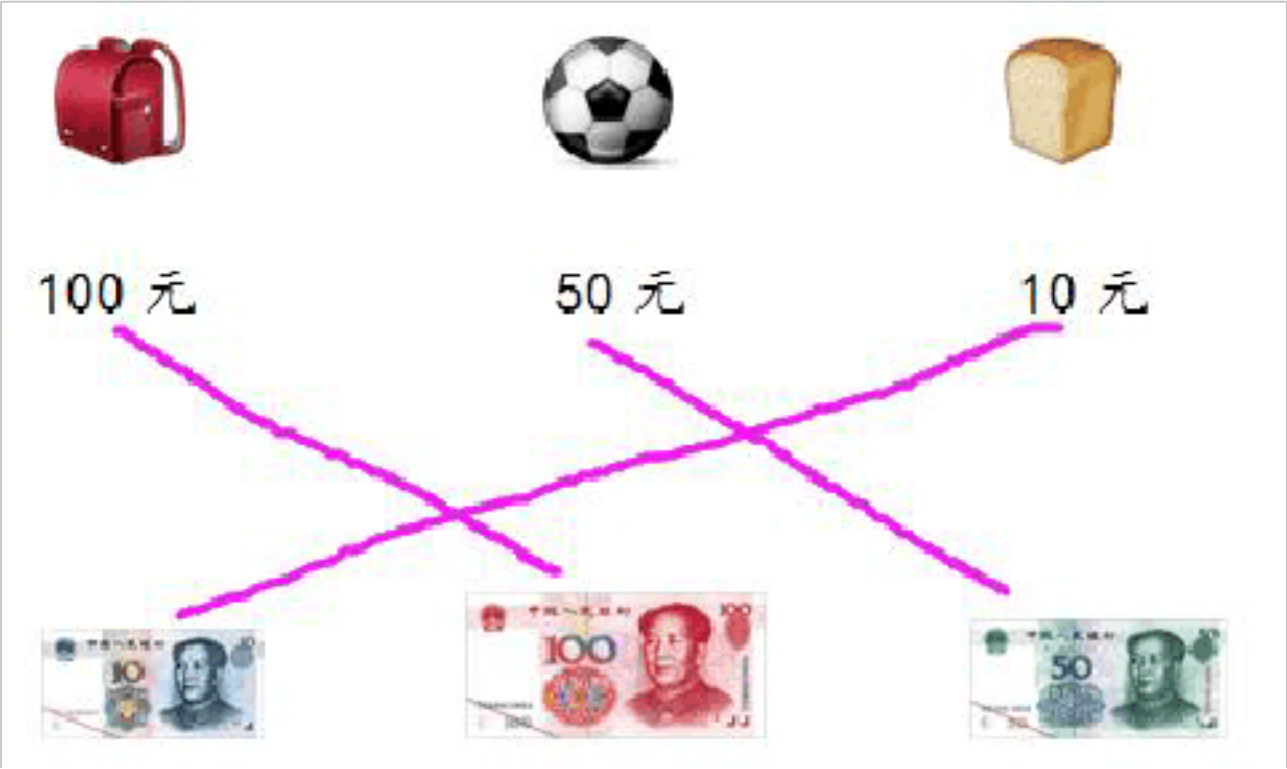
3. 一辆玩具汽车 58 元，强强带的钱（都是 20 元），刚好可以买一辆玩具汽车，强强带的钱中最少有几张 20 元。(在正确的答案内画“√”)

参

3 张	4 张	5 张

考答案

1.



2. (1) (答案不唯一) 2 1 或 1 3

(2) 4

3.

3 张	4 张	5 张
✓		

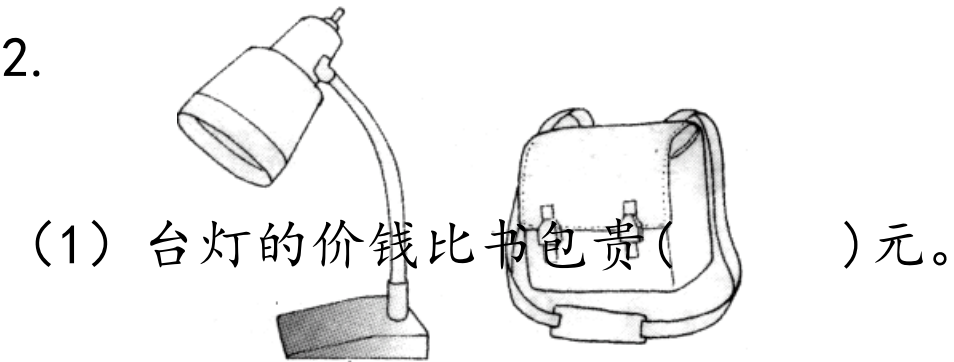
练习十

1. 填空题。

5 角 7 分=()分 36 角=()元()角




20 角=()元 100 分=()元

2.



(1) 台灯的价钱比书包贵()元。

(2)如果全用~~210~~³⁰元付钱买两样东西,至少要带()张 10 元的钱。

3. 买  和  一共用去 78 元，买  用去 50 元，买  用去多少元？

$$\square \bigcirc \square = \square \quad (\quad)$$

参考答案

1. 57 3 6 2 1

2. (1) 12

(2) 8

3. $78-50=18$ (元)

小小商店

1. 在商店里（课件的情境图）小华要买一只熊猫玩具、一个地球仪，要用多少元钱？
2. （课件的情境图）木木带了 50 元，可以买一个笔记本和一个机器人吗？

参考答案

1. $32+20=52$ （元） 答：他要花 52 元钱。
2. $4+48=52$ （元） $52>50$ 答，他的钱不够。

两位数加一位数（进位）

1. $4 + 39 = \square$

先算 $\square + \square = \square$

再算 $\square + \square = \square$

2. 算一算。

$28+7=$

$5+33=$

$75+6=$

$39+8=$

$8+67=$

$28+3=$

3. 一块巧克力 18 元，一本笔记本 26 元，买这两样物品应付多少元？

$\square \bigcirc \square = \square \quad (\quad)$

参考答案

1.

$4 + 39 = 43$

先算 $4 + 9 = 13$

再算 $13 + 30 = 43$

2.

35 38 81 47 75 31

3. $26+18=44$ （元）



练习十一（1）

1. 算一算，比一比。

$43+3=$	$6+52=$
$43+7=$	$6+54=$
$43+9=$	$6+58=$

2. 把正确的得数圈出来。

$55+3$ （58, 85）	$46+8$ （44, 54）
$3+39$ （42, 69）	$65+9$ （20, 74）

3. 有  45 本，有  19 支，一共有多少件学习用品？
 $\square \bigcirc \square = \square$ （ ）

参考答案

1. 47 58 50 59 52 64

2.

$55+3$ （ <u>58</u> , 85）	$46+8$ （44, <u>54</u> ）
$3+39$ （ <u>42</u> , 69）	$65+9$ （20, <u>74</u> ）

3. $45+19=64$ （件）

练习十一 (2)

1. 先说出得数是几十多，再计算，

$55+4=$

$72+6=$

$37+2=$

()

()

()

$55+8=$

$72+9=$

$37+8=$

()


()

()

2. 找规律填数

(1) 8、16、24、()、()、()

(2) 12、21、30、()、()、()

3. 文具店今天卖了  9 个，还剩 27 个，原来有多少个  ?

$$\square \bigcirc \square = \square \quad (\quad)$$

参考答案

1. 五十几 59 七十几 78 三十几 39

六十几 63 八十几 81 四十几 45

2. (1) 32、40、48

(2) 39、48、57

3. $9+27=36$ (个)

两位数减一位数（退位）

1. 42 - 9 =

先算 =

再算 + =




2. 算一算、比一比。

- 10-6=

14-7=
- 20-6=

34-7=
- 50-6=

64-7=

3. 小军有 34 支 ，小芳有 8 支 ，小芳比小军少多少支 ？

○=（ ）

参考答案

1.

42 - 9 = **33**

30

12

3

先算 **12** - **9** = **3**

再算 **3** + **30** = **33**

2. 4 7
- 14 27

44 57

3. $34-8=26$ （支）

练习十二（1）

1. $20-5=$ $63-3=$ $74-2=$

$40-5=$ $63-5=$ $74-4=$

$70-5=$ $63-8=$ $74-6=$

2. 把正确的得数圈出来。

$45-8$ （37， 47） $75-7$ （5， 68）

$35-6$ （29， 30） $45-5$ （30， 40）

3. 小英写了 24 个字，小明写了 9 个字，小英比小明多写了多少个字？

$\square \bigcirc \square = \square$ （ ）

参考答案

1、 15 60 72 35 58 70 65 55 68

2、

$45-8$

(37)

$47)$

$35-6$

(29)

$30)$

$75-7$

$(5,$

$68)$

$45-5$

$(30,$

$40)$

3、 $24-9=15$ （个）

练习十二（2）

1. 先说出得数是几十多，再计算。

55-4=

()

43-2=

()

67-5=

()

55-6=

()

43-7=

()

67-9=

()

2.



36 个



84 个



9 个

(1)  比  多多少个？

○ = ()

(2)  比  少多少个？

○ = ()

3. 在□里填合适的数。

42-=3

26-=2

参考答案

- 1、五十几 51 四十几 41 六十几 62
 四十几 49 三十几 36 五十几 58

2、(1) 36-9=27 (个)

 (2) 84-9=75 (个)

3、(答案不唯一) 3 9

练习十二²⁴ (3)

1.

第一 个数	53	46	73	27	93
----------	----	----	----	----	----

第二 个数	3	8	9	4	7
和					
差					

2. 在得数比 60 大的算式后面打“√”。

$62-3$ ☐

$34+30$ ☐

$72-9$ ☐

$51-3$ ☐

$21+40$ ☐

$61-1$ ☐

3.





54 角



9 角

(1) 买一本  和一支  一共要多少钱？

\bigcirc $=$ ()

(2) 一本  比一支  贵多少钱？

\bigcirc $=$ ()

参 考 答 案

1.

第一 个数	53	46	73	27	93
----------	----	----	----	----	----

第二 个数	3	8	9	4	7
和	56	54	82	31	100
差	50	38	64	23	84

2.

62-3☐

34+30☒

72-9☒

51-3☐

21+40☒

61-1☐

3. （1）54+9=63（角）

（2）54-9=45（角）

两位数加两位数笔算（进位）

1.

26

+ 34

54

+ 19

6

+ 26

2. 用竖式计算。

49+23=

65+17=

87+9=

3. 书架上有 36 本故事书，有 37 本故事书，书架上一共有多少本书？

参考答案

1.

26

+34

60
- 54

+19

73
- 6

+26

32
2.

49+23=72

49

+23

72
- 65+17=83

65

+17

83
- 87+9=96

87

+9

96
3.

36+37=73（本）

练习十三（1）

1.

46

+27

39

+12

7

+66
2.

用竖式计算。

14+39=

55+15=

7+48=
3.

小东看一本书，第一天看了 25 页，第二天看得和第一天同样多，小东两天一共看了多少页？

□○□=□（ ）

参考答案

1.

46

+27

73

39

+12

51

7

+66

73
2.

14+39=53

14

+39

53

55+15=70

55

+15

70

7+48=55

7

+48

55
3.

25+25=50（页）

练习十三（2）

1. 算一算、比一比。

22

+33

22

36

+43

36

3

+45

3

22

+39

22

36

+47

36

3

+48

3

2. 在每组中得数大的算式后面画“√”。

30+45

3+45

64-4

64-8

67-8

67-3

3. 《童话故事》一共有 36 页，《海底世界》一共有 45 页，两本书一共有多少页？

$\square \bigcirc \square = \square \quad (\quad)$

参考答案

1.

22

+ 33

55

22

+ 39

61

36

+ 43

79

36

+ 47

83

3

+ 45

48

3

+ 48

51

2.

30+45☒

3+45☐

64-4☒

64-8☐

67-8☐

67-3☒

3. 36+45=81（页）

两位数减两位数笔算（退位）

1.

42

- 34

54

- 19

26

- 17

2. 用竖式计算。

43-29=

64-28=

81-17=

3. 足球队有 54 人，篮球队有 45 人，两队相差多少人？

$$\square \bigcirc \square = \square \quad (\quad)$$

参考答案

$$\begin{array}{r} 1. \quad 42 \\ - 34 \\ \hline 8 \end{array}$$

$$\begin{array}{r} 54 \\ - 19 \\ \hline 35 \end{array}$$

$$\begin{array}{r} 26 \\ - 17 \\ \hline 9 \end{array}$$

$$2. \quad 43 - 29 = 14$$

$$64 - 28 = 36$$

$$81 - 17 = 64$$

$$\begin{array}{r} 43 \\ - 29 \\ \hline 14 \end{array}$$

$$\begin{array}{r} 64 \\ - 28 \\ \hline 36 \end{array}$$

$$\begin{array}{r} 81 \\ - 17 \\ \hline 64 \end{array}$$

$$3. \quad 54 - 45 = 9 \text{ (人)}$$

练习十四 (1)

1.

$$\begin{array}{r} 61 \\ - 29 \\ \hline \end{array}$$

$$\begin{array}{r} 74 \\ - 18 \\ \hline \end{array}$$

$$\begin{array}{r} 42 \\ - 15 \\ \hline \end{array}$$

2. 用竖式计算。

$$34 - 16 =$$

$$67 - 39 =$$

$$55 - 27 =$$

3. 一个  56 元，小明付了 60 元，应该找回他多少元？

$\square \bigcirc \square = \square \quad (\quad)$

参考答案

1.
$$\begin{array}{r} 61 \\ - 29 \\ \hline 32 \end{array}$$

$$\begin{array}{r} 74 \\ - 18 \\ \hline 56 \end{array}$$

$$\begin{array}{r} 42 \\ - 15 \\ \hline 27 \end{array}$$

2. $34-16=18$

$$\begin{array}{r} 34 \\ - 16 \\ \hline 18 \end{array}$$

$67-39=28$

$$\begin{array}{r} 67 \\ - 39 \\ \hline 28 \end{array}$$

$55-27=28$

$$\begin{array}{r} 55 \\ - 27 \\ \hline 28 \end{array}$$

3. $60-56=4$ （元）

练习十四（2）

1. 算一算。

$51-4=$

$28+7=$

$5+33=$

$52-2=$

$46+4=$

$44-8=$

$93-8=$

$8+66=$

$85-7=$

2. 用竖式计算。

$79-44=$

$80-46=$

$98-49=$

3. 一本《童话故事》共有75 页，小芳已经看了39 页，还剩多少页没有看？

$\square \bigcirc \square = \square \quad (\quad)$

参考答案

1. 47 35 38 50 50 36 85 74

78

2. $79-44= 35$ $80-46=34$ $98-49=49$

$\begin{array}{r} 79 \\ - 44 \\ \hline 35 \end{array}$	$\begin{array}{r} 80 \\ - 46 \\ \hline 34 \end{array}$	$\begin{array}{r} 98 \\ - 49 \\ \hline 49 \end{array}$
--	--	--

3. $75-39=36$ （页）

复习（1）

1. 算一算。

$86-40 =$ $87+3=$ $16+60=$

$5+75=$ $38-4=$ $95-9=$

$42-4=$ $78-30=$ $51-7=$

$46+30-9=$ $60-6+8=$

2. 用竖式计算。

$38+52=$ $79-44=$ $80-46=$

3. 找规律填数

8、16、24、()、()、()

91、 82、 73、 ()、 ()、 () ……

参考答案

1. 46 90 76 80 34 86 38 48

44 67 62

2. $38+52=90$

$$79 - 44 = 35$$

$$80 - 46 = 34$$

$$\begin{array}{r} 38 \\ + 52 \\ \hline 90 \end{array}$$

$$\begin{array}{r} 79 \\ - 44 \\ \hline 35 \end{array}$$

$$\begin{array}{r} 80 \\ - 46 \\ \hline 34 \end{array}$$

3. 32 40 48

64 55 46

复习 (2)

1. 填空题。

(1) 与 69 相邻的数是 () 和 ()。

(2) 比 50 小 1 的数是 (), 比 79 大 1 的数是 ()。

(3) 27 比 63 小 (), 81 比 65 大 ()。

(4) 比 56 多 8 的数是 (), 比 60 少 7 的数是 ()。

2. 用竖式计算。

$47+38=$

$98-49=$

$74-55=$

$3. \triangle + \bigcirc = 47, \quad 40 - \triangle = 25,$

$\triangle = (\quad), \quad \bigcirc = (\quad)$

参考答案

$1. \quad (1) \quad 68 \quad \quad 70$

$(2) \quad 49 \quad \quad 80$

$(3) \quad 36 \quad \quad 16$

$(4) \quad 64 \quad \quad 53$

$2. \quad 47+38=85$

$98-49=49$

$74-55= 19$

$$\begin{array}{r} 47 \\ + 38 \\ \hline 85 \end{array}$$

$$\begin{array}{r} 98 \\ - 49 \\ \hline 49 \end{array}$$

$$\begin{array}{r} 74 \\ - 55 \\ \hline 19 \end{array}$$

$3. \quad \triangle = (\quad 15 \quad), \quad \bigcirc = (\quad 32 \quad)$

期末复习 (1)

1. 填空题。

(1) (\quad) 个十是 50, 10 个十是 (\quad)。

(2) 5 个一和 6 个十合起来是 (\quad)。

(3) 十位上是 8, 个位上是 7, 这个数是 (\quad)。

(4) 在 52、47、68、90、70、25、87 这几个数中, 最大的数是 (\quad),

其中双数是（ ）、（ ）、（ ）、（ ）。

2. 在你认为合适的答案下面画“√”。

(1)

比 86 小的多！

30	80	90

(2)


50 元

?

每双女鞋的价钱比男鞋贵得多！

20	54	100

3. 找规律，接着画图形。



□ ○ △ □ ○

△ ____、____、____、____、____、____。

□□△▲□□△▲ ____、____、____、____、____、____。

参考答案

1. (1) 5 100
- (2) 65
- (3) 87
- (4) 90 52 68 90 70

2. (1)

30	80	90
✓		

(2)

20	54	100
		✓

3. □○△□○△

□□△▲□□

精品文档 用心整理

期末复习（2）

1. 算一算。

50+4=

5+20=

20+7=

14-8+7=

6+70=

54-50=

39-30=

79-70+3=

89-9=

77-70=

60+6=

17-9+60=

2. 下面哪些算式的得数比 40 大？在□里打“√”

34+9

☐

36-7

☐

62-6

☐

43-9

☐




52+4

☐

5+35

☐

3. 填表题。

			
原有	69 个	47 副	82 副
卖出	9 个	() 副	80 副
还剩	() 个	40 副	() 副

参考答案

1. 54

25

27

13

76

4

9 12 80 7 66 68

2.

34+9

☒

36-7

☐

62-6

☒

43-9

☐




52+4

☒

5+35

☐

3.

			
--	---	---	---

原有	69 个	47 副	82 副
卖出	9 个	(7) 副	80 副
还剩	(60) 个	40 副	(2) 副

期末复习
(3)

1. 填表题。

	买 来	吃 掉	还 剩
苹 果	20 个	8 个	() 个
桃 子	35 个	() 个	20 个
梨	() 个	9 个	18 个

2. 用竖式计算。

45-34=

95-9=

58+26=

7+44=

3. 兔 有 9 只，羊有 8 只，鸡有 12 只。

(1) 兔和羊一共有多少只？

○= ()

(2) 黑鸡有 4 只，白鸡有多少只？

○= ()

参考答案

1.

	买 来	吃 掉	还 剩
苹 果	20 个	8 个	(12) 个
桃 子	35 个	(15) 个	20 个
梨	(27) 个	9 个	18 个

2. 45-34=11

95-9=87

58+26= 84

7+44=51

$$\begin{array}{r} 45 \\ - 34 \\ \hline 11 \end{array}$$

$$\begin{array}{r} 95 \\ - 9 \\ \hline 87 \end{array}$$

$$\begin{array}{r} 58 \\ + 26 \\ \hline 84 \end{array}$$

$$\begin{array}{r} 7 \\ + 44 \\ \hline 51 \end{array}$$

3. (1) $8+9=17$ (只)
(2) $12-4=8$ (只)

期末复习 (4)

1. 云云看一本书，看了 50 页，还有 6 页没有看，这本故事书有多少页？

$\square \bigcirc \square = \square \quad (\quad)$

2.



(1) 丽丽买了个文具盒，营业员找回 13 元，她付了多少钱？

$\begin{array}{|c|} \hline 36 \text{ 元} \\ \hline \end{array} \quad \square \bigcirc \begin{array}{|c|} \hline 20 \text{ 元} \\ \hline \end{array} = \begin{array}{|c|} \hline \square \text{ 元} \\ \hline \end{array} \quad (\quad) \quad \begin{array}{|c|} \hline 12 \text{ 元} \\ \hline \end{array}$

(2) 我带 50 元，买玩具车和地球仪，带的钱够不够？

$\square \bigcirc \square = \square \quad (\quad)$

够 \square 不够 \square

3. 小红做了 20 朵花，小军做了 15 朵。全班 42 个学生，每人一个够吗？（在你认为合适的答案后面画“√”）

$\square \bigcirc \square = \square \quad (\quad)$

够 \square 不够 \square

参考答案

1. $50+6=56$ (页)

2. (1) $7+13=20$ (元)

(2) $36+20=56$ (元) $56 > 50$

不够 ☒

3. $20+15=35$ (朵) $35 < 42$

不够 ☒