

(考试时间 150 分钟 满分 300 分)

第一部分（选择题，满分 140 分）

本部分共 35 小题，每小题 4 分，共 140 分。在每小题列出的四个选项中，选出最符合题目要求的一项。

习近平主席于当地时间 2019 年 3 月 21 日 18：30 许抵达罗马，对意大利进行国事访问。读图 1，完成第 1～3 题。

1. 习主席抵达罗马时，北京时间约为

- A. 21 日 11：30
- B. 21 日 13：30
- C. 22 日 1：30
- D. 22 日 2：30

2. 意大利

- A. 是地中海北部的岛国
- B. 地处板块消亡边界，火山众多
- C. 盛产芒果、香蕉等水果
- D. 南部海运便利，经济比北部发达

3. 与那不勒斯相比，巴里

- A. 日出早，白昼长
- B. 自转线速度快
- C. 纬度高，多低温冻害
- D. 冬季降水量少

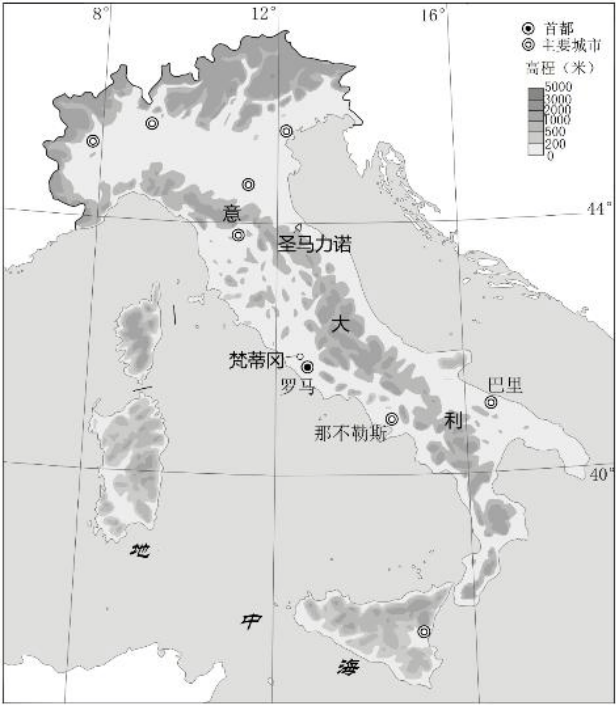


图 1

图 2 中①②③④四点间存在热力环流。据此，完成第 4 题。



4. ①②③④四点中

- A. ②比③气温低，气压高
- B. ③位于近地面，④位于高空
- C. ①处气体受热膨胀，气压低
- D. 气流运动方向为③→④→①→②→③

图 3 为全球陆地和海洋年降水量与蒸发量差值的纬度分布示意图。读图 3，完成第 5 题。



图 3

5. 图中

- A. 甲为陆地，乙为海洋

- B. 50° S 附近年降水量最多
- C. 低纬地区年降水量大于蒸发量
- D. 北半球比南半球蒸发量大

的的喀喀湖是南美洲地势最高、面积最大的淡水内陆湖。湖面海拔约3821 米，终年不冻。湖泊周围是南美洲印第安人文化的发源地之一，乌鲁族人至今还生活在由芦苇捆扎而成的漂浮岛上。读图4，完成第 6、7 题。



6. 的的喀喀湖
- A. 水体参与海陆间循环
 - B. 湖水不冻是受沿岸洋流影响
 - C. 湖面水位 7 月比 1 月高
 - D. 湖水经地表径流注入波波湖

7. 乌鲁族人选择生活在漂浮岛上的原因有
- ①沿岸居住条件差
 - ②便于捕鱼
 - ③建岛原料充足
 - ④对外联系方便
- A. ①②③ B. ①②④
- C. ①③④ D. ②③④

常住人口连续 3 年以上持续流失且缺乏回流的城市，被称为收缩型城市。图5 为 2000~2010 年中国收缩型城市分布示意图。读图 5，完成第 8、9 题。



8. 图中收缩型城市
- A. 集中分布在东部沿海地区
 - B. 鄂比皖数量多
 - C. 主要分布在地势第一、二级阶梯
 - D. 非季风区多于季风区

9. 收缩型城市

- A. 正经历城市化的后期阶段
- B. 劳动力就业发生空间转移
- C. 辖区面积不断减少，城市呈收缩趋势
- D. 人口死亡率大于出生率导致人口减少

无人驾驶飞机可安装摄像头或摄影机等设备进行工作，具有灵活机动、时效性高的特点。深圳市被称为“无人

人机之都”，2013 年制定了《深圳市航空航天发展规划（2013~2020 年）》。据此，完成第 10、11 题。

10. 无人机可应用的领域及优势为

- A. 海上搜救 搜索范围广、效率高
- B. 快递配送 长途运输成本低
- C. 人口普查 数据处理简单、便捷
- D. 城市规划 技术可操作性强

11. 近年来，大量无人机企业在深圳集聚，其主要原因有

- ①政策支持
 - ②技术协作条件好
 - ③廉价劳动力充足
 - ④靠近原料产地
 - ⑤创新文化氛围好
- A. ①②③
- B. ①②⑤
- C. ②③④
- D. ③④⑤

第二部分（非选择题 共 160 分）

36. （36 分）阅读图文资料，回答下列问题。

爱沙尼亚面积约 4.5 万平方千米，人口约 131.3 万人（2015 年）。该国于 2004 年加入欧盟，近年来与俄罗斯

经贸联系密切，经济进入高速增长阶段。爱沙尼亚主要工业部门有机械制造、电子、纺织和海产品与肉类加工业，

农业以畜牧业为主，区域产业促进城市发展。塔林港封冻期短，且多深水码头。图 1 为爱沙尼亚位置示意图，表 1

为塔林气候资料统计表。

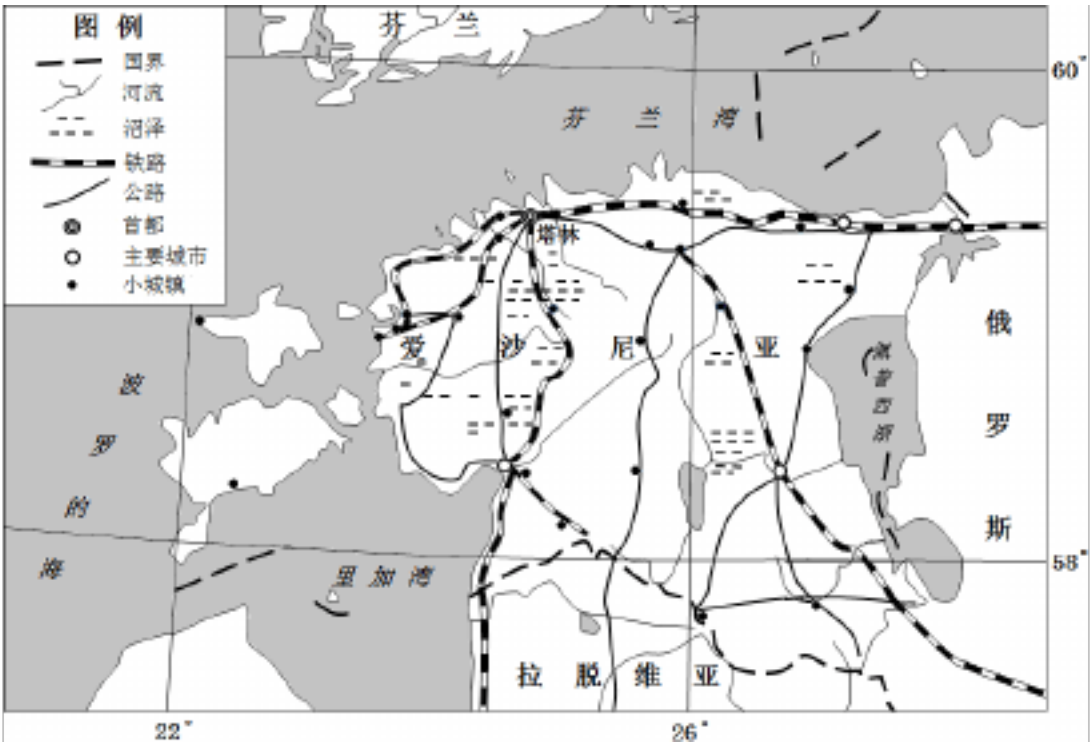


图 1

表 1

月份	1	2	3	4	5	6	7	8	9	10	11	12
----	---	---	---	---	---	---	---	---	---	----	----	----

平均气温 (℃)	-5.5	-5.7	-2.2	3.4	9.7	14.5	16.3	15.3	10.8	6.3	1.2	-2.9
降水量(毫米)	45	29	29	36	37	53	79	84	82	70	68	55
降水日数 (天)	11	8	8	8	7	8	11	11	12	11	14	14

(1) 说出爱沙尼亚城市分布的主要特点并简析其原因。(12 分)

(2) 爱沙尼亚的自然条件不利于发展种植业，简析其原因。(10 分)

爱沙尼亚森林覆盖率高达 48%，超过半数仍处于原始自然状态。2012 年该国被世界卫生组织评为全世界空气质量最优的国家。

(3) 分析爱沙尼亚空气质量优的原因。(6 分)

(4) 塔林港被视为爱沙尼亚最具发展潜力的港口，阐述其主要理由。(8 分)

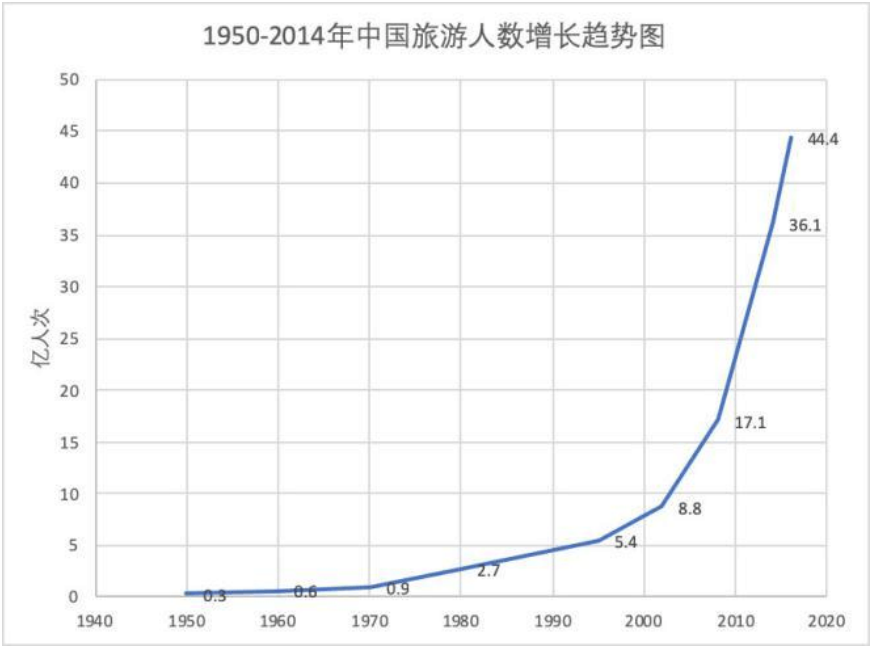
40.

中欧班列是往来于中国、欧洲及沿线各国的集装箱国际铁路联运班列。截止2018 年 6 月底，中欧班列累计开行量已突破 9000 列，运送货物近 80 万标箱，国内开行城市 48 个，到达欧洲 14 个国家、42 个城市，运输网络覆盖亚欧大陆的主要城市。

(2) 简述中欧班列的开通对沿线区域发展的意义。(10 分)

41.

建国 70 年来，我国人民生活方式发生了巨大变化，旅游已经成为百姓生活的重要组成部分。1999 年江西省首次提出“红色旅游”概念，此后红色旅游便逐渐兴起并蓬勃发展。图1 为 1950~2014 年我国旅游人数变化图。



(2) 简述我国旅游人数变化特点及原因，并列举两处红色旅游景区。(10 分)